

地理歴史、公民

【日本史】 【世界史】 【政治・経済】

(60分 100点)

注意事項

- ① 試験開始の合図があるまで、この問題冊子の中を見てはいけません。
- ② 解答にはHBまたはBの黒鉛筆（シャープペンシルはHBまたはBの芯であれば使用可）を使用しなさい。
- ③ マークシートの解答用紙には、氏名、受験番号、科目を記入する欄と受験番号、解答科目をマークする欄があります。
- ④ 解答方法は、マーク式（解答番号を選択する方式）です。マークシートの解答用紙にマークしなさい。

例えば、

10
----

と表示のある問いに対して③と解答する場合は、次の（例）のように解答番号10の解答欄の③にマークしなさい。

(例)

解答番号	解	答	欄							
10	①	②	③	④	⑤	⑥	⑦	⑧	⑨	⑩

- ⑤ 試験中に問題冊子の印刷不鮮明、ページの落丁・乱丁及び解答用紙の汚れ等に気付いた場合は、手を高くあげて監督者に知らせなさい。



# 日本史



B 藤原広嗣の乱は、8世紀半ばに北九州でおこった。(3)大宰府への左遷に不満のあった広嗣は、管轄下の兵を動員し、玄昉や  を朝廷から除く名目で挙兵し、朝廷が派遣した軍と激突した。その結果、敗れた広嗣は逮捕され、のちに処刑された。この乱は、聖武天皇が  などへ居所をうつす原因となり、(4)鎮護国家思想の影響とも重なり国分寺の建立や東大寺の大仏造立のきっかけとなった。

問4 下線部(3)に関連して述べた次の文X・Yについて、その正誤の組み合わせとして正しいものを、あとの①～④のうちから一つ選びなさい。

X 律令制下において、大宰府には外交の窓口や南海道の諸国統轄という役割があった。

Y 政府の財政が困難になるなか、9世紀に大宰府の管内に直営田として公営田が設けられた。

- |   |     |     |   |     |     |
|---|-----|-----|---|-----|-----|
| ① | X 正 | Y 正 | ② | X 正 | Y 誤 |
| ③ | X 誤 | Y 正 | ④ | X 誤 | Y 誤 |

問5 文章中の  ・  に入るべき語句の組み合わせとして正しいものを、次の①～④のうちから一つ選びなさい。

- |   |                                |        |                                |       |
|---|--------------------------------|--------|--------------------------------|-------|
| ① | <input type="text" value="イ"/> | － 高向玄理 | <input type="text" value="ウ"/> | － 長岡京 |
| ② | <input type="text" value="イ"/> | － 高向玄理 | <input type="text" value="ウ"/> | － 恭仁京 |
| ③ | <input type="text" value="イ"/> | － 吉備真備 | <input type="text" value="ウ"/> | － 長岡京 |
| ④ | <input type="text" value="イ"/> | － 吉備真備 | <input type="text" value="ウ"/> | － 恭仁京 |

問6 下線部(4)に関連して奈良時代の仏教に関して述べた文として誤っているものを、次の①～④のうちから一つ選びなさい。

- ① 遣唐使を通じ、現世利益を追求する密教が伝わり貴族社会に広まった。
- ② 神前読経や神宮寺の建立など、神仏習合の風潮が見られた。
- ③ 大寺院を中心に教理研究が進み、南都六宗という学派が形成された。
- ④ 鑑真により正式な戒律のありかたが伝わり、東大寺に戒壇が設けられた。

C 天慶の乱は、(5)10世紀におきた平将門の乱と藤原純友の乱の総称である。前者は、一族間の争いを機に将門がおこしたもので、関東を制圧して新皇と自称し、独自の勢力を築こうとしたが、**工**や藤原秀郷らに鎮圧された。後者は、伊予(6)掾をつとめたのちに瀬戸内海の子賊を率いた純友が、讃岐の国府や大宰府など西国各地を攻撃したもので、**オ**や小野好古らにより平定された。

問7 下線部(5)の時期のできごととして正しいものを、次の①～④のうちから一つ選びなさい。 **7**

- ① 平城太上天皇の変
- ② 安和の変
- ③ 刀伊の来襲(入寇)
- ④ 阿衡の紛議

問8 文章中の**工**・**オ**に入るべき語句の組み合わせとして正しいものを、次の①～④のうちから一つ選びなさい。 **8**

- ① **工** - 平貞盛                      **オ** - 源経基
- ② **工** - 平貞盛                      **オ** - 源頼義
- ③ **工** - 平忠常                      **オ** - 源経基
- ④ **工** - 平忠常                      **オ** - 源頼義

問9 下線部(6)の読み方として正しいものを、次の①～④のうちから一つ選びなさい。 **9**

- ① かみ
- ② すけ
- ③ じょう
- ④ さかん







3 次の年表を見て、あとの問い（問1～9）に答えなさい。

年代	できごと
1609	島津氏が琉球王国を攻め、(1)薩摩藩による琉球支配が始まる。
1616	中国船以外の外国船の来航を、長崎とアへ限定する。
1633	(2)奉書船以外の海外渡航が禁止される。
1669	アイヌが首長のシャクシャインのもとで蜂起する。
1689	中国人居住地として唐人屋敷が完成する。
1711	イが朝鮮通信使の接遇を簡素化する。 ↓(3)
1792	(4)ラクスマンが来航し、漂流民ウの送還と通商を要求する。
1825	(5)異国船打払令が出され、外国船の撃退が命じられる。
1837	打払令に基づき、エ商船のモリソン号が撃退される。
1858	大老井伊直弼のもとで、(6)安政の五カ国条約を調印する。

問1 下線部(1)について述べた次の文章中のX・Yに入るべき語句の組み合わせとして正しいものを、あとの①～④のうちから一つ選びなさい。 19

薩摩藩は、琉球にも検地をおこなってXによる農村支配を確立し、通商交易権についても掌握した。さらに、尚氏を琉球王国の王位につかせたうえで、独立した王国として中国との朝貢貿易をYさせた。

- |   |   |       |   |      |
|---|---|-------|---|------|
| ① | X | — 貫高制 | Y | — 停止 |
| ② | X | — 貫高制 | Y | — 継続 |
| ③ | X | — 石高制 | Y | — 停止 |
| ④ | X | — 石高制 | Y | — 継続 |

問2 年表中のア・イに入るべき語句の組み合わせとして正しいものを、次の①～④のうちから一つ選びなさい。 20

- |   |   |      |   |        |
|---|---|------|---|--------|
| ① | ア | — 平戸 | イ | — 柳沢吉保 |
| ② | ア | — 平戸 | イ | — 新井白石 |
| ③ | ア | — 博多 | イ | — 柳沢吉保 |
| ④ | ア | — 博多 | イ | — 新井白石 |



問9 下線部(6)について、この条約について述べた次の文X～Zについて、その正誤の組み合わせとして正しいものを、あとの①～④のうちから一つ選びなさい。 27

X 自由貿易を原則とする通商の開始を約した。

Y 下田と箱館の2港を開いて、領事の駐在を認めた。

Z 開港場に居留地を設け、外国人の国内旅行を禁じた。

① X 正 Y 正 Z 誤

② X 正 Y 誤 Z 正

③ X 誤 Y 正 Z 誤

④ X 誤 Y 誤 Z 正

4 次の文章A・Bを読み、あとの問い（問1～9）に答えなさい。

A 犬養毅は、1855年に岡山県で生まれた。21歳で上京後、郵便報知新聞に寄稿し、1877年の(1)西南戦争に際し報知社より特派され、従軍記者として活躍した。尾崎行雄らと接点をもつなか、82年立憲改進黨の創立に参加し、87年には(2)大同団結運動に参加、90年の最初の総選挙に岡山県より立候補して当選、その後の総選挙には毎回当選を果たした。1912年の第一次護憲運動では先頭にたって活動し、尾崎行雄とともに「憲政の神様」と称せられた。また対中国政策にも深い関心をもち、孫文の革命派の亡命の援助などをした。18年、寺内正毅内閣が設置した臨時外交調査会に参加し、これが政権接近への一つの転機となり、革新倶楽部を結成したのちには第二次ア内閣や護憲三派内閣に大臣として入閣し、(3)普通選挙法の実現に努め、同法が実現すると革新倶楽部を立憲政友会と合同させた。29年、政友会総裁に就任し、翌年にはイ内閣のロンドン海軍軍縮条約締結に対し議会で激しい政府攻撃を展開した。のちに、民政党内閣の瓦解を受け、(4)犬養毅内閣を組織したが、32年5月15日に海軍の青年将校らに暗殺された。

問1 下線部(1)のできごとについて、その背景として**適当でないもの**を、次の①～④のうちから一つ選びなさい。 28

- ① 秩禄処分
- ② 廢刀令
- ③ 華族令
- ④ 徴兵令

問2 下線部(2)を主導した人物として正しいものを、次の①～④のうちから一つ選びなさい。 29

- ① 井上馨
- ② 後藤象二郎
- ③ 大隈重信
- ④ 小村寿太郎

問3 文章中のア・イに入るべき語句の組み合わせとして正しいものを、次の①～④のうちから一つ選びなさい。 30

- |   |   |   |       |   |   |      |
|---|---|---|-------|---|---|------|
| ① | ア | － | 山本権兵衛 | イ | － | 田中義一 |
| ② | ア | － | 山本権兵衛 | イ | － | 浜口雄幸 |
| ③ | ア | － | 若槻礼次郎 | イ | － | 田中義一 |
| ④ | ア | － | 若槻礼次郎 | イ | － | 浜口雄幸 |

問4 下線部(3)について、普通選挙法が制定された年のできごととして**誤っているもの**を、次の①～④のうちから一つ選びなさい。 31

- ① 虎の門事件
- ② 日ソ基本条約
- ③ ラジオ放送の開始
- ④ 五・三〇事件

問5 下線部(4)に関連して、この内閣の政策について述べた次の文X・Yについて、その正誤の組み合わせとして正しいものを、あとの①～④のうちから一つ選びなさい。 32

X 日満議定書を取りかわして、満州国を承認した。

Y 国体明徴声明を発して、天皇機関説を否定した。

- ① X 正 Y 正                      ② X 正 Y 誤  
③ X 誤 Y 正                      ④ X 誤 Y 誤

B 吉田茂は、1878年に東京で生まれた。1906年に外務省へ入り、長く中国へ勤務して日本の権益拡張に関わった。28年外務次官となるが、翌年に外相の幣原喜重郎の策により駐伊大使に転出した。36年に外務省の同期であった(5) 広田弘毅内閣に入閣の予定だったが、親英米派を理由に軍部が反対、駐英大使となる。日独防共協定に終始反対したことや(6) アジア・太平洋戦争末期に近衛文麿元首相らと和平工作を企てたことで、戦後に和平主義者として復活した。東久邇宮内閣や幣原内閣の外相を務め、(7) GHQとの交渉役としてマッカーサー総司令官と知り合った。46年に第一次吉田内閣を組閣、外相を兼ねたが、翌年の二・一ゼネスト禁止後の総選挙で ウ が第一党となると下野した。48年、芦田均内閣が汚職で総辞職した後に第二次吉田内閣を組織、経済復興へ力点を移した占領政策に沿って経済安定九原則の実施と大幅な行政整理をおこない、朝鮮戦争が始まると警察予備隊の創設や エ など、逆コースに協力した。51年、全面講和論を退けてサンフランシスコ平和条約を結び、さらに日米安全保障条約の締結により軽軍備による経済発展を目指した。54年党内外の非難を浴び退陣したが、引退後も政治的な影響力を持ち続けた。

問6 下線部(5)について、この内閣の政策について述べた次の文X・Yについて、その正誤の組み合わせとして正しいものを、あとの①～④のうちから一つ選びなさい。 33

X 陸軍の要求に従って、軍部大臣現役武官制を復活させた。

Y 国家総動員法に基づいて、国民徴用令を出した。

- ① X 正 Y 正                      ② X 正 Y 誤  
③ X 誤 Y 正                      ④ X 誤 Y 誤

問7 下線部(6)の戦争中のできごとについて述べた次の文a～cが、年代の古いものから順に正しく配列したものを、あとの①～④のうちから一つ選びなさい。 34

a 翼賛選挙が実施された。

b サイパン島が陥落した。

c 大東亜会議が開かれた。

- ① a → b → c                      ② a → c → b  
③ b → a → c                      ④ c → a → b

問8 下線部(7)について、GHQによる占領統治期の政策について述べた文として誤っているものを、次の①～④のうちから一つ選びなさい。 35

- ① 農業基本法が制定され、寄生地主制の打破が目指された。
- ② 教育基本法により、教育の機会均等と男女共学の原則が規定された。
- ③ 新選挙法が制定され、女性参政権がはじめて認められた。
- ④ 地方自治法により、都道府県知事や市町村長が公選となった。

問9 文章中の ウ ・ エ に入るべき語句の組み合わせとして正しいものを、次の①～④のうちから一つ選びなさい。 36

- |   |   |         |   |            |
|---|---|---------|---|------------|
| ① | <span style="border: 1px solid black; padding: 2px;">ウ</span> | － 日本共産党 | <span style="border: 1px solid black; padding: 2px;">エ</span> | － レッドパージ   |
| ② | <span style="border: 1px solid black; padding: 2px;">ウ</span> | － 日本共産党 | <span style="border: 1px solid black; padding: 2px;">エ</span> | － 旧軍人の公職追放 |
| ③ | <span style="border: 1px solid black; padding: 2px;">ウ</span> | － 日本社会党 | <span style="border: 1px solid black; padding: 2px;">エ</span> | － レッドパージ   |
| ④ | <span style="border: 1px solid black; padding: 2px;">ウ</span> | － 日本社会党 | <span style="border: 1px solid black; padding: 2px;">エ</span> | － 旧軍人の公職追放 |

(余 白)

(余 白)



# 世界史

第1問 次の文章を読み、下の問い（問1～9）に答えなさい。

インダス川流域や黄河・長江流域では、オリエント文明にややおくれて、農業を基盤とする都市文明が発達した。南アジアでは、前2600年頃から前2000年頃にかけて(1)インダス文明が栄えた。その後、牧畜民アーリヤ人が西北インドに進出し、さらに(2)ガンジス川に移動する過程で、今日にいたるインド世界の骨格をなす宗教・社会構成・世界観が形成された。

(3)東南アジアの諸地域は、はやくから海を通じてインドや中国と交流し、その影響をうけながら独自の文明を形成してきた。しかし大きく統合されることはなく、それぞれの自然条件に応じた小規模な国々が、インドに生まれた(4)ヒンドゥー教や仏教などの宗教をうけいれながら繁栄した。

中国では、黄河流域の都市文明のなかから(5)殷王朝、ついで周王朝が成立して華北を支配した。その後、(6)春秋・戦国時代の動乱のなかで、中央集権的な政治体制や、儒教をはじめとする新しい思想が形成された。前3世紀末の(7)秦による中国統一を経て、つづく(8)漢の時代に20世紀初めまで続く皇帝政治体制の基礎が固まった。

これらユーラシア大陸の文明とは別個に、(9)アメリカ大陸の中部・南部でも、トウモロコシなどの農耕を基礎とする都市文明が形成され、メキシコやアンデスの高原地帯を中心に強力な諸国家が生まれた。

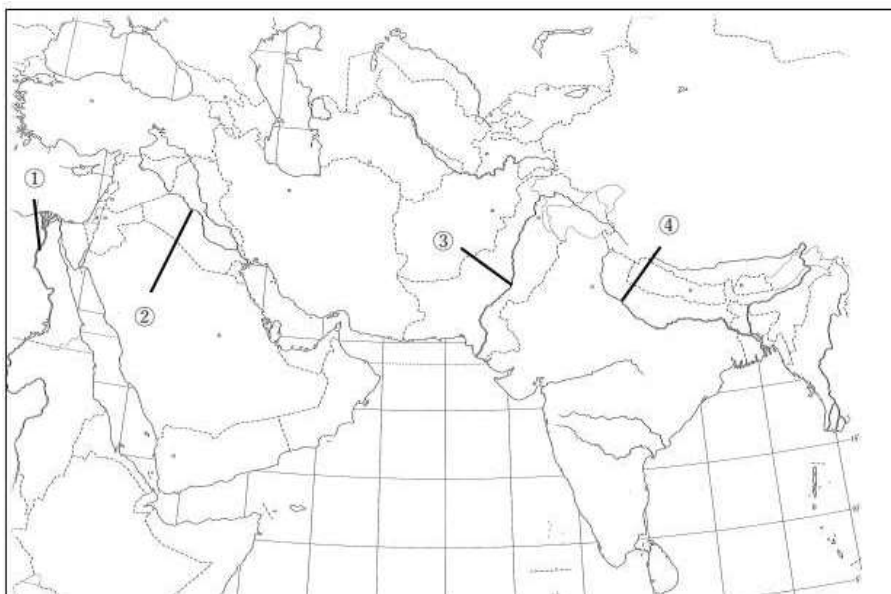
問1 下線部(1)の文明について述べた文として正しいものを、次の①～④のうちから一つ選びなさい。

1

- ① クノッソスに代表される宮殿は、宗教的権威を背景に権力をにぎった王の住居である。
- ② 大村落は都市へと発展し、ウル・ウルクなどの都市国家が形成された。
- ③ モエンジョ＝ダーロやハラッパーなどの遺跡は、都市計画に基づいてつくられていた。
- ④ ファラオによる統一国家がつけられた。

問2 下線部(2)の河川の位置として正しいものを、次の地図中の①～④のうちから一つ選びなさい。

2



問3 下線部(3)に関連して、次の文中の空欄 **ア** と **イ** に入れる語句の組み合わせとして正しいものを、下の①～④のうちから一つ選びなさい。 **3**

紀元前後から盛んになるインドや中国との交流のなかで、1世紀末に東南アジア最古の国家ともされる扶南が **ア** 川下流域に建国された。インドから来航したバラモンと土地の女性が結婚してつくったという神話をもつこの国の港 **イ** では、ローマ貨幣やインドの神像が出土している。

- ① **ア**—エーヤワディー    **イ**—オケオ    ② **ア**—エーヤワディー    **イ**—パレンバン  
 ③ **ア**—メコン    **イ**—オケオ    ④ **ア**—メコン    **イ**—パレンバン

問4 下線部(4)について述べた文として誤っているものを、次の①～④のうちから一つ選びなさい。 **4**

- ① ヒンドゥー教は、バラモン教に民間信仰が融合して成立した。  
 ② ヒンドゥー教において、『クルアーン』は人びとの生活の規範に関する法典とされた。  
 ③ 部派仏教に対して、万人の救済をめざしたものを大乘仏教という。  
 ④ 上座部仏教は、スリランカや東南アジアに南伝した部派仏教である。

問5 下線部(5)に関連して、この王朝で用いられていたものとして正しいものを、次の①～④のうちから一つ選びなさい。 **5**

①



②



③



④



問6 下線部(6)の時期のできごとについて述べた次の文 **a** と **b** の正誤の組み合わせとして正しいものを、下の①～④のうちから一つ選びなさい。 **6**

**a** 鉄製農具の使用や牛耕が始まって農業生産力が高まり、小家族でも自立した農業経営が可能となった。

**b** 周代の世襲的な身分制度はくずれ、個人の能力を重んずる実力本位の傾向が特色となった。

- ① **a**—正 **b**—正    ② **a**—正 **b**—誤  
 ③ **a**—誤 **b**—正    ④ **a**—誤 **b**—誤

問7 下線部(7)の時期のできごとについて述べた次の文 a と b の正誤の組み合わせとして正しいものを、下の①～④のうちから一つ選びなさい。 7

- a 周の政治を理想とした政策を強行して、社会を混乱させた。  
b 各地に封土を与えられた皇帝の一族が互いに争って、政治が乱れた。
- ① a—正 b—正      ② a—正 b—誤  
③ a—誤 b—正      ④ a—誤 b—誤

問8 下線部(8)について、武帝の時代の経済政策について述べた文として正しいものを、次の①～④のうちから一つ選びなさい。 8

- ① 貨幣を半両錢に統一した。  
② 財政再建を目的として、鉄や塩を専売の対象とした。  
③ 中小商人への低利の貸付である市易法を施行した。  
④ 土地政策として均田制を施行した。

問9 下線部(9)について、アメリカ大陸の文明の栄えた地域を示した次の地図中の a ～ c と文明の名の組み合わせとして正しいものを、下の①～⑥のうちから一つ選びなさい。 9

- ① a—アステカ      b—インカ      c—マヤ  
② a—アステカ      b—マヤ      c—インカ  
③ a—インカ      b—アステカ      c—マヤ  
④ a—インカ      b—マヤ      c—アステカ  
⑤ a—マヤ      b—アステカ      c—インカ  
⑥ a—マヤ      b—インカ      c—アステカ



第2問 次の文章を読み、下の問い（問1～9）に答えなさい。

西ローマ帝国滅亡と(1) ゲルマン人の大移動・建国ののち、7世紀のイスラーム勢力の西進をきっかけにして地中海世界はまとまりを失い、やがて東ヨーロッパ世界・西ヨーロッパ世界・イスラーム世界の三つの歴史的世界に分裂した。

東ヨーロッパでは(2) ビザンツ帝国（東ローマ帝国）がローマ帝国の伝統を引き継ぎ、皇帝はギリシア正教会を服従させて中央集権的一元支配を維持した。(3) スラヴ系諸民族もビザンツ文化の影響下で自立・建国し、ビザンツ帝国とともにギリシア＝スラヴ的世界を形成した。

一方、西ヨーロッパでは(4) ローマ＝カトリック教会がフランク王国と手を結び、ギリシア正教会とビザンツ帝国に対抗した。カールの戴冠は、ローマ＝ゲルマン的西欧世界の独立を象徴するできごとであった。また民族大移動後の長い混乱期は、封建的主従関係と(5) 荘園という独自のしくみをもつ封建社会をうみだした。こうして出現したのが西ヨーロッパ中世世界である。

封建社会は(6) 11～13世紀に最盛期を迎えたが、農業生産が増大し人口が急増すると、西ヨーロッパは拡大を開始した。その拡大のエネルギーを爆発的に噴出させたのが、(7) 十字軍である。十字軍は結局失敗に終わったが、これをきっかけに(8) 東方貿易が拡大して都市と商業は再び繁栄を迎えた。貨幣経済が浸透すると農民の地位は向上し、荘園に基づく経済体制は崩壊へと向かった。また(9) 教皇権が衰退するのとは逆に王権は強まり、そのなかから中央集権をおしすすめた各国は、近代的国民国家形成に向けて一歩を踏み出すのである。

問1 下線部(1)について、ゲルマン人に属する部族の名とその部族が建国した地域の名の組み合わせとして正しいものを、次の①～④のうちから一つ選びなさい。 10

- ① ヴァンダル人—北アフリカ                      ② 東ゴート人—シチリア  
③ フランク人—イベリア半島                      ④ ブルグント人—北イタリア

問2 下線部(2)の国で起こった出来事について述べた次の文 a と b の正誤の組み合わせとして正しいものを、下の①～④のうちから一つ選びなさい。 11

- a オクタウィアヌスが、ヴァンダル王国や東ゴート王国を滅ぼした。  
b 第4回十字軍にコンスタンティノーブルが攻略された。

- ① a—正 b—正                      ② a—正 b—誤  
③ a—誤 b—正                      ④ a—誤 b—誤

問3 下線部(3)について述べた文として誤っているものを、次の①～④のうちから一つ選びなさい。

12

- ① キエフ公国のウラディミル1世は、ギリシア正教に改宗した。  
② セルビア人の間では、ギリシア正教が広く受容された。  
③ チェック人の間では、ローマ＝カトリックが広く受容された。  
④ ポーランドの王リューリクは、ローマ＝カトリックに改宗した。

問4 下線部(4)の時期の出来事について述べた次の文 a～c が、年代の古いものから順に正しく配列されているものを、下の①～⑥のうちから一つ選びなさい。 13

- a 教皇レオ3世はカールにローマ皇帝の帝冠を与え、「西ローマ帝国」の復活を宣言した。
- b クローヴィスが、アタナシウス派(カトリック)に改宗した。
- c ピピンがラヴェンナ地方を教皇に寄進した。

- ① a → b → c      ② a → c → b      ③ b → a → c
- ④ b → c → a      ⑤ c → a → b      ⑥ c → b → a

問5 下線部(5)について、次の文中の空欄 ア と イ に入れる語句の組み合わせとして正しいものを、下の①～⑥のうちから一つ選びなさい。 14

農奴は ア で労働する賦役の義務と、 イ から生産物をおさめる貢納の義務を領主に負った。荘園には手工業者も住み、自給自足的な現物経済が支配的であった。

- ① アー共同利用地      イー農民保有地      ② アー共同利用地      イー領主直営地
- ③ アー農民保有地      イー共同利用地      ④ アー農民保有地      イー領主直営地
- ⑤ アー領主直営地      イー共同利用地      ⑥ アー領主直営地      イー農民保有地

問6 下線部(6)に関連して、11世紀以降のヨーロッパの都市や商工業について述べた次の文 a と b の正誤の組み合わせとして正しいものを、下の①～④のうちから一つ選びなさい。 15

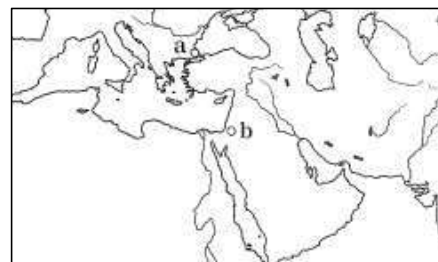
- a 中世都市の手工業者は、大商人に対抗して同職ギルド(ツンフト)を組織した。
- b イタリアやフランドル地方の中世都市では、綿織物工業が盛んであった。

- ① a—正    b—正      ② a—正    b—誤
- ③ a—誤    b—正      ④ a—誤    b—誤

問7 下線部(7)について、第1回十字軍がイスラーム勢力から奪回した都市の名と、その位置を示す次の地図中の a または b との組み合わせとして正しいものを、下の①～④のうちから一つ選びなさい。

16

- ① イェルサレム—a
- ② イェルサレム—b
- ③ コンスタンティノーブル—a
- ④ コンスタンティノーブル—b



問8 下線部(8)に関連して、次の文中の空欄[ ]に入れる語句として正しいものを、下の①～④のうちから一つ選びなさい。 [ 17 ]

遠隔地貿易は、まず地中海商業圏で発達した。北イタリアの港市[ ]は、「アドリア海の女王」と呼ばれたヴェネツィアと東地中海の通商権をめぐって激しく抗争した。14世紀には中産市民が貴族政権を倒して統領（ドージェ）を選出するという共和政を樹立した。15世紀に入ってオスマン帝国が地中海東部を支配するようになり、東方貿易が衰退すると、[ ]商人はスペイン王室と連携して、大航海時代に活躍した。

- ① ジェノヴァ      ② ミラノ      ③ フィレンツェ      ④ ガン（ヘント）

問9 下線部(9)について述べた文として正しいものを、次の①～④のうちから一つ選びなさい。

[ 18 ]

- ① インノケンティウス3世の時、教皇権は絶頂に達した。  
② ウルバヌス2世は、第4回十字軍の派遣を提唱した。  
③ ボニファティウス8世は、フィリップ4世を捕らえた。  
④ レオ10世は、贖宥状の販売を禁止した。

第3問 次の文章を読み、下の問い（問1～9）に答えなさい。

ヨーロッパでは、15世紀後半から、政治・経済・社会・宗教・文化などのあらゆる側面で、近現代の世界に直接つながる新しい動きがめだつようになった。この時代は近世、あるいは初期近代と呼ばれ、おおよそ18世紀後半まで続いたが、この時期の変化はヨーロッパ内部にとどまらず、ヨーロッパ人が遠くアジアやアメリカ大陸への航海に乗り出し、世界の一体化も始まった。この点に注目して、15世紀から17世紀にかけての時期を大航海時代と呼ぶこともある。

思想・芸術・科学などの面では、この時期は人間性の自由・解放を求め、各人の個性を尊重しようとする(1)ルネサンスに特徴づけられる。また、16世紀には、(2)カトリック教会を批判する動きがドイツからヨーロッパ各地に広まり、この宗教改革に対して、(3)カトリック教会も内部刷新に取り組んだ。その結果、信仰は人々の心の内面にまではいりこみ、各国の教会はそれぞれ個性を強めて、世俗の政治秩序も大きな影響をうけた。

こうした状況を背景として、15世紀末から17世紀前半、ヨーロッパの国々は従来よりも強固なまとまりをもつようになり、独立した主権国家としてたがいに対立と妥協をくりかえしながら、(4)一つの国際秩序（主権国家体制）を形成していった。16世紀には(5)スペインが全盛であったが、ヨーロッパ全体が危機の時代を迎えた(6)17世紀前半には、あらたに(7)オランダ・(8)イギリス・(9)フランスなどの国々が有力となっていった。

問1 下線部①の時代の作品とその著者の組み合わせとして誤っているものを、次の①～④のうちから一つ選びなさい。 19

- ① 『叙情詩集』—ペトラルカ      ② 『神曲』—ダンテ  
③ 『デカメロン』—ボッカチオ      ④ 『ドン=キホーテ』—ラブレール

問2 下線部(2)について述べた文として正しいものを、次の①～④のうちから一つ選びなさい。

20

- ① 市民は、アウクスブルクの宗教和議で個人の信仰の自由を獲得した。  
② 神聖ローマ皇帝は、三十年戦争でカトリックの側に立って戦った。  
③ ルターは、ドイツ農民戦争以降も農民反乱に同情的な態度を貫いた。  
④ ルターはヴォルムスの帝国議会で、初めて「九十五カ条の論題」を公表した。

問3 下線部(3)について、15世紀の教会をめぐる動きについて述べた文として正しいものを、次の①～④のうちから一つ選びなさい。 21

- ① ウィクリフが、教会改革を主張した。  
② 教皇庁が、アヴィニョンに移された。  
③ 教皇と皇帝ハインリヒ4世の間で、叙任権闘争が起こった。  
④ コンスタンツ公会議で、教会大分裂が収拾された。

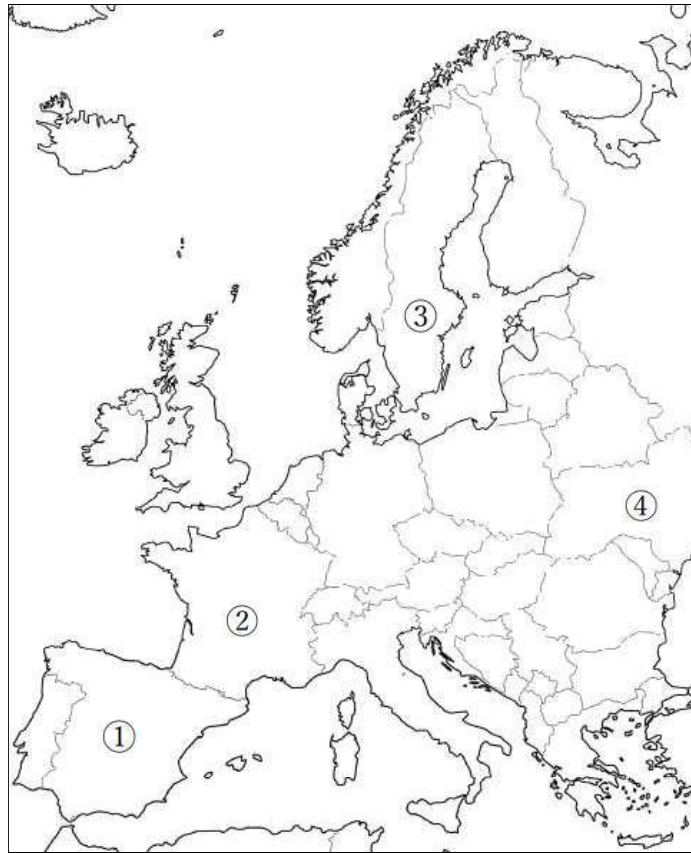


問4 下線部(4)に関連して述べた次の文中の空欄 **ア** と **イ** に入れる語句の組み合わせとして正しいものを、下の①～④のうちから一つ選びなさい。 **22**

1618年、オーストリアの属領ベーメン（ボヘミア）の新教徒が、**ア**家によるカトリック信仰の強制に反抗したのをきっかけに、三十年戦争がおこった。この戦争の一つの対立軸は旧教対新教で、**イ**は旧教側の**ア**家の皇帝を支援し、新教国デンマークはこれと戦った。

- ① **ア**ーハプスブルク **イ**ースウェーデン      ② **ア**ーハプスブルク **イ**ースペイン  
 ③ **ア**ーブルボン **イ**ースウェーデン      ④ **ア**ーブルボン **イ**ースペイン

問5 下線部(5)について、現在の国の位置として正しいものを、次の地図中の①～④のうちから一つ選びなさい。 **23**



問6 下線部(6)の時代の中国について述べた次の文 a～c が、年代の古いものから順に正しく配列されているものを、下の①～⑥のうちから一つ選びなさい。 **24**

- a 康熙帝が台湾を領有した。  
 b 順治帝が北京に入城した。  
 c ホンタイジがチャハル部を征服した。

- ① a → b → c      ② a → c → b      ③ b → a → c  
 ④ b → c → a      ⑤ c → a → b      ⑥ c → b → a

問7 下線部(7)の国の通商・海外進出について述べた文として正しいものを、次の①～④のうちから一つ選びなさい。 25

- ① インド南東部のカルカッタに拠点を維持した。
- ② 台湾に拠点を置いた。
- ③ 北米のニューネーデルラントは、スペインに奪われた。
- ④ マカオに居住権を得て、対中国貿易の拠点とした。

問8 下線部(8)に関連して、イギリスにおける茶の交易や消費との関係について述べた次の文 a と b の正誤の組み合わせとして正しいものを、下の①～④のうちから一つ選びなさい。 26

- a 17世紀のイギリスでは、砂糖入り紅茶が労働者の家庭にまで普及していた。
  - b 18世紀に、イギリス東インド会社の茶をめぐる、ボストン茶会事件が起こった。
- ① a—正 b—正      ② a—正 b—誤
  - ③ a—誤 b—正      ④ a—誤 b—誤

問9 下線部(9)に関連して、次の年表に示した a～d の時期のうち、ナントの王令が廃止された時期として正しいものを、下の①～④のうちから一つ選びなさい。 27

a
1598年 ユグノー戦争が終結した
b
1643年 ルイ14世が即位する
c
1789年 フランス革命が始まる
d

- ① a      ② b      ③ c      ④ d

第4問 次の文章を読み、下の問い（問1～9）に答えなさい。

1880年代以降の(1)欧米先進諸国は、アフリカについて、アジア・太平洋・カリブ海地域へと進出をはかり、植民地・従属地域を拡大した。この間、(2)列強諸国では市民文化が成熟に向かい、国民のあいだには帝国主義を受け入れる傾向が広まり、(3)ヨーロッパの社会主義運動も穏健な改革主義へと傾斜していった。

しかし、おくれた帝国主義国(4)ドイツの植民地再分割要求を前に、既得利権をまもろうとする英・仏・ロシアは結束し、列強体制は二極分化して、やがて対立軸はアフリカ・アジアから、(5)オスマン帝国・(6)バルカン地域に移動した。とりわけ多民族帝国として国内外の民族運動の活動に直面するオーストリア＝ハンガリーと(7)ロシアは、オスマン帝国やバルカン地域での対立を深めていった。

この間、欧米の帝国主義の攻勢下におかれたイスラーム世界やインド・中国、ラテンアメリカ地域では、(8)辛亥革命やメキシコ革命が示すように、多面的な近代化によって外圧に対抗しようとし、(9)20世紀の民族運動の形成を準備した。

問1 下線部(1)に関連して、アジア・アフリカ地域における列強の勢力拡大やその影響について述べた文として波線部が誤っているものを、次の①～④のうちから一つ選びなさい。 28

- ① イギリスは、マフディー運動を鎮圧し、スーダン支配を確立した。
- ② イランでは、イギリス人にタバコ利権が譲渡されると、タバコ＝ボイコット運動が起こった。
- ③ インドで、イギリスの支配に対抗して、シパーヒーの反乱が起こった。
- ④ マダガスカルは、イギリスの支配を受けた。

問2 下線部(2)に関連して、19世紀後半のアメリカ合衆国やヨーロッパの文化・社会について述べた文として正しいものを、次の①～④のうちから一つ選びなさい。 29

- ① アメリカ合衆国では、ラジオ放送やジャズなどの大衆文化が発展した。
- ② アメリカ合衆国のフルトンが、蒸気船を実用化した。
- ③ イギリスのステューヴンソンが、蒸気機関車を実用化した。
- ④ イギリスのダーウィンは、進化論を唱え、『種の起源』を著した。

問3 下線部(3)に関連して、ヨーロッパの労働運動や社会主義運動について述べた次の文a～cが、年代の古いものから順に正しく配列されているものを、下の①～⑥のうちから一つ選びなさい。

30

- a ビスマルクが、社会主義者鎮圧法を制定した。
  - b マルクスとエンゲルスが、『共産党宣言』を発表した。
  - c ロシアに成立したソヴィエト政権が、第3インターナショナルを設立した。
- ① a → b → c      ② a → c → b      ③ b → a → c
  - ④ b → c → a      ⑤ c → a → b      ⑥ c → b → a

問4 下線部(4)に関連して、ドイツの対アフリカ政策について述べた文として正しいものを、次の①～

④のうちから一つ選びなさい。 31

- ① エチオピアを侵略し、植民地とした。
- ② アルジェリアを領有した。
- ③ 二度にわたるモロッコ事件を起こした。
- ④ ファショダ事件でイギリスと対立した。

問5 下線部(5)に関連して、オスマン帝国の歴史について述べた文として誤っているものを、次の①～

④のうちから一つ選びなさい。 32

- ① アンカラの戦いで、ティムールに敗れた。
- ② カルロヴィッツ条約で、ハンガリーやトランシルヴァニアなどの領土を失った。
- ③ マムルーク朝を滅ぼして、エジプトを征服した。
- ④ ワールシュタット（リーグニッツ）の戦いで、ドイツ・ポーランド連合軍に勝利した。

問6 下線部(6)に関連して、バルカン地域をめぐる動きについて述べた次の文 a と b の正誤の組み合わせとして正しいものを、下の①～④のうちから一つ選びなさい。 33

a ベルリン会議の後、ビスマルクはロシアとの関係改善を図り、再保障条約を締結した。

b ベルリン会議の結果に不満を持ったロシアは、三国同盟から離脱した。

- ① a—正 b—正      ② a—正 b—誤
- ③ a—誤 b—正      ④ a—誤 b—誤

問7 下線部(7)について述べた次の文 a～c が、年代の古いものから順に正しく配列されているものを、下の①～⑥のうちから一つ選びなさい。 34

a 新しい首都ペテルブルク（サンクト＝ペテルブルク）が建設された。

b ステンカ＝ラーズン率いる農民反乱が鎮圧された。

c ミハイル＝ロマノフがツァーリに即位し、ロマノフ朝が始まった。

- ① a → b → c      ② a → c → b      ③ b → a → c
- ④ b → c → a      ⑤ c → a → b      ⑥ c → b → a

問8 下線部(8)に関連して、中華民国について述べた文として正しいものを、次の①～④のうちから一つ選びなさい。 35

- ① アメリカ合衆国と望厦条約を結んだ。
- ② 科挙を廃止した。
- ③ 国内で義兵闘争が激化した。
- ④ 南京で成立した。

問9 下線部(9)に関連して、捕虜について述べた次の文中の空欄「ア」と「イ」に入れる語句の組み合わせとして正しいものを、下の①～④のうちから一つ選びなさい。 36

捕虜の処遇に関する条約は、ロシア皇帝「ア」の提唱によって、1899年と1907年の二度にわたって、「イ」で開催された万国平和会議で取り決められた。捕虜の取り扱いについては、その規定において虐待の禁止が明記されている。

- ① アーアレクサンドル2世      イージュネーヴ
- ② アーアレクサンドル2世      イーハーグ
- ③ アーニコライ2世            イージュネーヴ
- ④ アーニコライ2世            イーハーグ

(余 白)

# 政治・経済

第1問 次の文章を読み、下の問い（問1～9）に答えよ。（配点 25）

日本国憲法の前文では、「再び戦争の惨禍が起こることがないようにすることを決意」と宣言し、さらに第9条において国際紛争を解決するための武力行使と戦争を放棄するとともに、それを達成するため、戦力と交戦権を持たないことを規定とした。この「平和主義」の規定は、日本の国家権力に対する抑制であるだけでなく、武力行使に関する日本の立場を海外に明示する制定当時の外交宣言の意味合いもあった。

政府は、第9条が武力行使を禁じているといえるが、㉔前文や第12条、第13条をふまえて、日本が武力攻撃を受けた場合に自衛のために武力を行使するのは、例外的に許されると解釈している。自衛隊はこの解釈に基づいて組織され、㉖歴史的にも自衛権と自衛隊に関する解釈は変化してきた。

さらに、㉗国際情勢の多様な変化による法整備を経て、2014年、当時の  内閣によって、他国への武力攻撃は、日本の存立と国民の生命の危機がある場合、 的自衛権が容認されるとされ、2015年の平和安全法制の整備に至っている。

社会や技術の変化、また民主主義の発展に伴い、国民が政治に参加する機会が増えてくると、国内では、憲法の解釈、新しい法整備が必要とされてきた。憲法第13条は㉘「新しい人権」を保障する根拠の一つとして解釈運用されている。

「新しい人権」に対して、かつては「18世紀的人権」と説明されてきた自由権と平等権についても社会の多様な価値観の変化によって、憲法の解釈、新しい法整備が進められている。

憲法は第22条・第29条第1項で、㉙職業選択の自由や財産権などの経済活動の自由を保障している。近年、実体のある「モノ」だけでなく、情報に財産としての価値を認め、㉚「知的財産権」として保護する考え方が広がり、「新しい財産権」としての保障がおこなわれている。

また、「生命・身体の自由」を保障する第36条では、拷問や残虐な刑罰が禁止されているが、これをめぐって㉛死刑制度の存続をめぐる議論も続いている。

平等権をめぐっても、人々の生活様式の変化と新しい価値観によって、それまで㉜差別や偏見に苦しんできた人々に対する権利の保障も要求されるようになってきた。2010年代に入ってヘイトスピーチ解消法、障害者差別解消法、アイヌ施策推進法など、法整備が進みつつある。

問1 文章中の  と  にあてはまる語句の組み合わせとして正しいものを、次の①～④のうちから一つ選べ。

- |   |        |      |   |        |      |
|---|--------|------|---|--------|------|
| ① | ア—安倍晋三 | イ—個別 | ② | ア—安倍晋三 | イ—集団 |
| ③ | ア—菅義偉  | イ—集団 | ④ | ア—菅義偉  | イ—個別 |



問2 下線部④について、日本国憲法の前文の一部と第12条・第13条の条文の一部の空欄にあてはまる語句の組み合わせとして正しいものを、下の①～⑥のうちから一つ選べ。 2

[前文] …われらは、全世界の国民が、ひとしく欠乏と恐怖から免かれ、( X )のうちに生存する権利を有することを確認する。

[第12条] この憲法が国民に保障する( Y )及び権利は、国民の不断の努力によつて、これを保持しなければならない。

[第13条] …生命、( Y )及び( Z )追求に対する国民の権利については、公共の福祉に反しない限り、立法その他の国政の上で、最大の尊重を必要とする。

- |        |      |      |        |      |      |
|--------|------|------|--------|------|------|
| ① X—自由 | Y—幸福 | Z—平和 | ② X—自由 | Y—平和 | Z—幸福 |
| ③ X—幸福 | Y—自由 | Z—平和 | ④ X—幸福 | Y—平和 | Z—自由 |
| ⑤ X—平和 | Y—自由 | Z—幸福 | ⑥ X—平和 | Y—幸福 | Z—自由 |

問3 下線部⑤について、空欄 a・b にあてはまる自衛権に関する答弁の変化に影響を与えた出来事の組み合わせとして正しいものを、下の①～④のうちから一つ選べ。 3

1946年 戦争放棄に関する本案の規定は、直接には自衛権を否定して居りませぬが、第9条第2項に於て一切の軍備と国の交戦権を認めない結果、自衛権の発動としての戦争も、又交戦権も放棄したものであります。(吉田茂首相)

← ( a )

1950年 いやしくも国が独立を回復する以上は、自衛権の存在することは明らかであつて、その自衛権が、ただ武力によらざる自衛権を認めない結果、自衛権を日本は持つということは、これは明瞭であります。(吉田茂首相)

← ( b )

1954年 憲法は自衛権を否定していない。憲法は戦争を放棄したが、自衛のための抗争は放棄していない。戦争と武力の威嚇、武力の行使が放棄されるのは、「国際紛争を解決する手段としては」ということである。(大村清一防衛庁長官)

- |                    |                   |
|--------------------|-------------------|
| ① a—日米安全保障条約の締結    | b—朝鮮戦争の勃発と自衛隊の発足  |
| ② a—日米安全保障条約の締結    | b—第四次中東戦争の勃発と石油危機 |
| ③ a—米ソの対立の激化と冷戦の展開 | b—朝鮮戦争の勃発と自衛隊の発足  |
| ④ a—米ソの対立の激化と冷戦の展開 | b—第四次中東戦争の勃発と石油危機 |

問4 下線部㉔に関連して、日本の自衛隊の活動に関する次の記述 a～c を年代順に並べ替えた組み合わせとして正しいものを、下の①～⑥のうちから一つ選べ。 4

- a イラク復興支援特別措置法が制定され、イラクに自衛隊が派遣された。
- b 国連平和維持活動協力が制定され、カンボジアに自衛隊が派遣された。
- c テロ対策特別措置法が制定され、インド洋に自衛隊が派遣された。

- ① a－b－c      ② a－c－b      ③ b－a－c
- ④ b－c－a      ⑤ c－a－b      ⑥ c－b－a

問5 下線部㉕についての記述として最も適当なものを、次の①～④のうちから一つ選べ。 5

- ① ラジオやテレビ、インターネットなどの情報通信技術の進歩によって、国民の「知る権利」の保障のために、個人情報の利用・公開の促進が進むようになった。
- ② プライバシーの保護のために、国家が保有している情報の公開は厳しく制限されるようになり、プライバシーの権利を具体化するために情報公開法が制定された。
- ③ 医療技術の進展により、様々な治療の選択肢が増え、患者自身に治療法を選ぶ権利があるという考え方も一般的になり、自己決定権として保障されるようになった。
- ④ 日本に在留する外国人にも可能な限りの権利が保障されるようになり、国会議員を選挙する権利なども最高裁判所の判決で保障されることになった。

問6 下線部㉖について、「職業選択の自由」や「経済活動の自由」に関する裁判を説明した次の文 a と b の正誤を判定し、その組み合わせとして正しいものを、下の①～④のうちから一つ選べ。

6

- a 最高裁判所によって、薬事法に定められた薬局設立に関する距離規定は憲法第 22 条に反するという判決が出された。
- b 最高裁判所によって、「公共の福祉」の観点から安全性を確保する必要があるとして、大衆薬のネット販売を禁止することは違憲ではないとする判決が出された。

- ① a－正 b－正      ② a－正 b－誤
- ③ a－誤 b－正      ④ a－誤 b－誤

問7 下線部㉑に関連して、多くの人々が所持・使用しているスマートフォンに関する「知的財産権」についての組み合わせとして正しいものを、下の①～⑥のうちから一つ選べ。 7

a 液晶技術    b タッチペン    c ブランド

- 1 実用新案権とは、物品の構造・形状の考案について保護するものである。
- 2 特許権とは、新しい発明を保護するものである。
- 3 意匠権とは、物品のデザインなどを保護するものである。
- 4 著作権とは、思考や感情を創作的に表現することを保護するものである。
- 5 商標権とは、商品やサービスに使用するマークなどを保護するものである。

- ① a-1 b-2 c-3    ② a-1 b-3 c-4    ③ a-4 b-2 c-5  
④ a-2 b-1 c-5    ⑤ a-2 b-1 c-3    ⑥ a-4 b-3 c-5

問8 下線部㉒について、死刑制度を採用している国(2021年段階)として正しいものを、次の①～④のうちから一つ選べ。 8

① フランス    ② ドイツ    ③ 中華人民共和国    ④ オーストラリア

問9 下線部㉓に関連した次の文aとbの正誤を判定し、その組み合わせとして正しいものを、下の①～④のうちから一つ選べ。 9

- a 部落差別解消推進法が制定され、差別解消のための積極的な対策が国や地方自治体の義務とされた。
- b 同性間の婚姻が認められる最高裁判所の判決が出され、戸籍作成時における男女別姓が認められるようになった。

- ① a-正 b-正    ② a-正 b-誤  
③ a-誤 b-正    ④ a-誤 b-誤

第2問 次のA・Bの文章を読み、下の問い(問1～9)に答えよ。(配点 25)

A

大日本帝国憲法では、国の統治権はすべて天皇のものとされたが、法律の制定では帝国議会の同意が必要とされ、行政権は大臣の協力の下に進めるとされた。現在の日本国憲法では、国会は「唯一の④立法機関」であるだけでなく、「国権の最高機関」として位置づけられている。大日本帝国憲法にはそもそも内閣の規定はなく、天皇の輔弼機関とされていたが、日本国憲法では、⑥内閣は国会に対して連帯して責任を負い、内閣総理大臣は各省庁などの国务大臣を任免できた。

国民の人権は、大日本帝国憲法においては③「臣民の権利」として保障されていたが、「法律ノ範囲内」での保障であったため、体制の変革や私有財産制度の廃止などを主張する社会主義運動などは法律で取り締まることが可能であった。

大日本帝国憲法が、①選挙で選ぶことができる議会を設置したことは、日本史上画期的なことではあったが、天皇に強い行政権を与える反面、総理大臣の選出や軍の活動に議会が関与できる範囲が狭く、権力の分立は不十分であったといえよう。また、②裁判所による違憲審査の仕組みが無かったことも、人権侵害に通じる法律の制定に繋がりがやすく、人権保障の制度の確立の遅れももたらすことになった。

問1 下線部④について、日本国憲法下の国会の記述として、最も適切なものを、次の①～④のうちから一つ選べ。 10

- ① 議員提出の法案の成立が多く、内閣提出の法案は成立が少ない。
- ② 分野ごとに委員会で審議が行われ、委員会での決定を経て本会議で議決される。
- ③ 法律案は必ず先に衆議院に提出され、衆議院で可決された後、参議院で審議される。
- ④ 国会の本会議の定足数は総議員の過半数、委員会では3分の2以上の出席が必要である。

問2 下線部㉑について、日本国憲法に定められた議院内閣制に関する次の文 a と b の正誤を判定し、その組み合わせとして正しいものを、下の①～④のうちから一つ選べ。 11

- a 衆議院や参議院において内閣不信任決議が可決された場合、内閣は総辞職するか、可決から10日以内に衆議院を解散し、総選挙を実施しなくてはならない。
- b 内閣が衆議院の解散を決定した場合は、総選挙後、初めて国会が召集されたときに、内閣は総辞職しなくてはならない。

- ① a－正 b－正                      ② a－正 b－誤  
③ a－誤 b－正                      ④ a－誤 b－誤

問3 下線部㉒に関連して、大日本帝国憲法における臣民の権利・義務についての記述として**適当でないもの**を、次の①～④のうちから一つ選べ。 12

- ① 臣民は、兵役と納税、子女に教育を受けさせる義務を有した。
- ② 個人の尊厳、男女の本質的平等などの平等権に関する規定はなかった。
- ③ 居住・移転の自由、言論・集会・結社の自由、信教の自由など自由権規定があった。
- ④ 臣民の権利・義務は戦時や国家事変の場合は天皇大権によって制限できた。

問4 下線部㉓に関連して、第1回衆議院議員総選挙について記述した次の文の空欄 a・b にあてはまる数字の組み合わせとして正しいものを、下の①～④のうちから一つ選べ。 13

第1回衆議院議員の総選挙における選挙資格は、満（ a ）歳以上の男性で、直接国税（ b ）円以上の納税者に限られており、当時の人口の約1%であった。

- ① a－25 b－15                      ② a－25 b－10  
③ a－30 b－10                      ④ a－30 b－15

問5 下線部㉔に関連して、日本国憲法下の違憲審査に関して記述した次の文 a と b の正誤を判定し、その組み合わせとして正しいものを、下の①～④のうちから一つ選べ。 14

a 憲法第81条には、「最高裁判所は、一切の法律、命令、規則又は処分が憲法に適合するかしないかを決定する権限を有する終審裁判所である」と定められており、これが違憲審査権に関する条文である。

b 条約に関して違憲審査が及ぶか否かについては、法学上、条約優位説と憲法優位説があり、通説では条約は違憲審査の対象に含まれないと考えられており、実際の判例でも、砂川事件判決にあるように条約は違憲審査の対象外とされている。

- ① a－正 b－正                      ② a－正 b－誤  
③ a－誤 b－正                      ④ a－誤 b－誤

B

主権者である④国民の代表を選ぶ制度が選挙である。かつては性別や納税額による制限選挙や投票の秘密が守られない公開選挙なども存在した。しかし、現行の選挙制度では、⑧原則として18歳以上の国民なら誰でも投票可能な普通選挙、1人1票の平等選挙、無記名で投票する秘密選挙、有権者が直接投票する直接選挙を原則としている。

選挙制度は候補者個人に投票するか、政党に投票するかによって異なる。衆議院はかつて、一つの選挙区から複数の国会議員を選ぶ中選挙区制が採用されていた。しかし、選挙制度改革によって、⑨小選挙区制と比例代表制を組み合わせた小選挙区比例代表並立制が導入された。

①参議院議員選挙では、都道府県を単位とする選挙区選挙と、全国を一つの選挙区とする比例代表制を組み合わせている。

問6 下線部④について、「国民の代表を選ぶ制度」は国によって様々な方法がみられる。アメリカ合衆国の大統領選挙にみられる多数決の問題点について記述した次の文の空欄 a・b にあてはまる語句の組み合わせとして正しいものを、下の①～④のうちから一つ選べ。 15

2000年、( a ) 党のゴア候補と ( b ) 党のブッシュ候補が大統領選挙を争った。事前の世論調査ではゴア候補がリードしていたにもかかわらず、選挙戦の途中から、第三の候補として緑の党のネーダー候補が登場し、ゴア候補の支持層の一部を奪ったことで、ブッシュ候補や ( b ) 党を批判する票が多数であったにもかかわらず、( b ) 党のブッシュ候補が当選することになった。また、2016年、( a ) 党のクリントン候補と ( b ) 党のトランプ候補が選挙戦を争ったが、得票数ではクリントン候補が多数を占めたにもかかわらず、アメリカの大統領選挙では、各州で勝利した候補者がその州の票(選挙人)を総取りするため、( b ) 党のトランプ候補が当選した。「票割れ」と「民意の集約方法」によって多数決による選出が民意を必ずしも反映しないという問題点を浮き彫りにした。

- ① a－保守党 b－労働党                      ② a－労働党 b－保守党  
③ a－民主党 b－共和党                      ④ a－共和党 b－民主党

問7 下線部⑧に関連して、公職選挙法の改正によって満18歳以上に選挙権が定められたが、改正後最初の国政選挙として正しいものを次の①～④のうちから一つ選べ。 16

- ① 2013年の参議院議員通常選挙              ② 2016年の参議院議員通常選挙  
③ 2017年の衆議院議員総選挙              ④ 2021年の衆議院議員総選挙

問8 下線部①に関連して、小選挙区制と比例代表制についてそれぞれ次のa・bのように説明した。空欄1～4にあてはまる説明として適当な文をア～エから選び、その組み合わせとして正しいものを下の①～⑥から一つ選べ。 17

- a 小選挙区制では、選挙区ごとに1名が当選し（ 1 ）ため、（ 2 ）場合がある。  
b 政党に投票する比例代表制では（ 3 ）が（ 4 ）可能性がある。

- ア 様々な世論が反映される  
イ 死票が多くなる  
ウ 多くの政党が乱立する  
エ 大きな政党に有利になる

- ① 1－ア 2－ウ 3－エ 4－イ      ② 1－ア 2－イ 3－エ 4－ウ  
③ 1－ウ 2－イ 3－ア 4－エ      ④ 1－ウ 2－ア 3－イ 4－エ  
⑤ 1－エ 2－ウ 3－ア 4－イ      ⑥ 1－エ 2－イ 3－ア 4－ウ

問9 下線部①に関連して、2022年7月に参議院議員通常選挙が実施された。この結果によって参議院における第1党と第2党となった政党の組み合わせとして正しいものを次の①～④から一つ選べ。 18

- ① 自由民主党・日本維新の会      ② 自由民主党・立憲民主党  
③ 自由民主党・公明党            ④ 立憲民主党・公明党



第3問 次の会話文を読み、下の問い（問1～9）に答えよ。（配点 25）

先生：②銀行には、「三大業務」と呼ばれるものがあり、資金に余裕のある人や企業から、その資金を  
アとして受け入れるア業務、そしてそれを、①資金が必要な人や、企業に融通する  
イ業務があります。

大和：もう一つはウ業務ですね。

先生：それはどのようなものか簡単に説明できますか？

和花：たとえば、Aさんが、X銀行にお金を預け入れ、X銀行に口座を持っていたとします。どこか遠方で暮らす自分の息子Bさんに仕送りをする場合、Bさんが口座を持っているY銀行にX銀行にあるAさんの口座からお金を引き落とし入金すれば、BさんはY銀行からそのお金を受け取ることができます。これが銀行のウ業務です。

先生：よく知っていますね。これらが「銀行の三大業務」と呼ばれるものです。

大和：でも、これらの業務で銀行はどのようにして利益をあげることができるのですか？

和花：お金を借りた側が、貸した側に対して支払う「利子」によって利益をあげているのだと思います。

先生：ア業務では、預けた人が銀行にお金を貸すことと同じですから、銀行が預けた人に利子を付けて返すことになり、イ業務では、逆に銀行がお金を必要としている人や企業などに貸すわけですから、借りた人は利子を付けて銀行に返すことになります。③「普通預金」や「定期預金」の利子と、例えば住宅ローンの「変動型」や「固定型」の利子の差額で銀行は利益をあげることが可能になりますね。ウ業務の場合は、手数料という形で利益をあげています。

大和：日本銀行も、このような業務をおこなっているのですか？

先生：日本銀行は、一般の銀行とは大きく異なり、その役割もまったく別のものです。日本銀行には三つの顔があり、一つは④「銀行の銀行」、もう一つは「政府の銀行」、そして⑤「発券銀行」という役割です。

和花：私たちが日本銀行に口座を持つことはできないわけですね。

先生：口座は持てませんが、私たち個人の生活との関わりがまったく無いわけではなく、例えば、交通違反の反則金などの⑥歳入金日本銀行の本店・支店、日本銀行の代理店となっている全国の金融機関でも納めることができます。また、損傷したお金を、法令に定める基準に基づいて新しいお金に引き換えもしてくれますし、損傷がなくても⑦流通に不便な旧紙幣についての引き換えも可能です。

大和：日本では、1990年代後半から景気が低迷し、⑧デフレが続いていますが、その対応に日本銀行が活躍したと聞いていますが、どのような対応をとったのでしょうか。

先生：2013年から、日本銀行は強力な金融緩和策を打ち出し、金融機関から国債を積極的に購入するなどして世の中に出回るお金の量を増やしています。これを受けて家計や企業が将来的に景気が上向きになると考えれば物価が上昇する前に消費が促され、企業は設備投資に向かうのです。

和花：なるほど。日本銀行は家計や企業の心理にも働きかける政策をおこなうのですね。

問1 会話文中の **ア**・**イ**・**ウ** にあてはまる語句の組み合わせとして正しいものを、次の

①～⑥のうちから一つ選べ。 **19**

- |   |      |      |      |
|---|------|------|------|
| ① | アー為替 | イー預金 | ウー貸付 |
| ② | アー為替 | イー貸付 | ウー預金 |
| ③ | アー貸付 | イー為替 | ウー預金 |
| ④ | アー貸付 | イー預金 | ウー為替 |
| ⑤ | アー預金 | イー為替 | ウー貸付 |
| ⑥ | アー預金 | イー貸付 | ウー為替 |

問2 下線部④に関連して、普通銀行のうち、5つの銀行が「都市銀行」と呼ばれている場合がある。

これらについて説明した次の文中の空欄 a・b にあてはまる語句の組み合わせとして正しいものを下の①～⑥から一つ選べ。 **20**

銀行法にもとづくところ、いわゆる「都市銀行」という分類は明確には存在していない。行政的には、銀行免許を持つ銀行のうち、所管が地方財務局ではなく金融庁にある大手行のことで、これによると「メガバンク」3行と2つの銀行のうち（ a ）を除く4行を「都市銀行」としている。都市銀行の数は1989年には13行あったが、（ b ）以降、合併や破綻を通じて半分以下に減少した。日本銀行が明らかにしている「貸出・預金動向」統計によると、2019年段階の銀行の総貸出額に占める「都市銀行」の総貸出額の割合は40%台なかばとなっており、60%以上であった1990年代に比して銀行貸出市場における存在感は低下してしまっている。

- |   |           |             |
|---|-----------|-------------|
| ① | aーみずほ銀行   | bーバブル経済崩壊   |
| ② | aーみずほ銀行   | bー第2次石油危機   |
| ③ | aー埼玉りそな銀行 | bーリーマン=ショック |
| ④ | aー埼玉りそな銀行 | bーバブル経済崩壊   |
| ⑤ | aー三菱UFJ銀行 | bーリーマン=ショック |
| ⑥ | aー三菱UFJ銀行 | bー第2次石油危機   |

問3 下線部㉑に関して、空欄 a・b にあてはまる名称は下の語句の造語として生まれた。空欄 a・b にあてはまる造語の由来となったア～エの単語の組み合わせとして正しいものを下の①～④から一つ選べ。 21

近年、情報通信技術の発展によって金融との融合が進み、( a ) と呼ばれる ICT と金融の融合が著しく発展している。例えば、金融機関の口座と自動的に連携する「家計簿アプリ」のサービスなどスマートフォンを利用して自分の資金の出納を一元的に「見える化」することが可能である。

さらに資金を集める方法として、( b ) という方法も登場している。これは、インターネット上で多数の人から資金を調達する方法で、ネット上に目標とする資金やモノ・サービスの提案を示し、それに賛同した人々を「支援者」として不特定多数の人々から少額ずつ資金を調達するというものである。

ア Technology    イ Funding    ウ Finance    エ Crowd

- ① a－ア・イ    b－ウ・エ      ② a－ア・ウ    b－イ・エ  
 ③ a－イ・ウ    b－ア・イ      ④ a－イ・エ    b－ア・ウ

問4 下線部㉒に関して、現在の普通銀行における「普通預金」と「住宅ローン変動型」の利率に最も近い数字の組み合わせとして適当なものを、下の①～④のうちから一つ選べ。 22

a 普通預金    b 住宅ローン変動型

ア 0.001%    イ 0.011%    ウ 2.475～3.075%    エ 2.45～3.40%

- ① a－ア    b－ウ      ② a－ア    b－エ  
 ③ a－イ    b－ウ      ④ a－イ    b－エ

問5 下線部㉑に関連して、銀行の機能に関する次の文章中の空欄 a・b にあてはまる語句の組み合わせとして正しいものを、下の①～④のうちから一つ選べ。 23

一般の銀行は、預金の一定割合を日本銀行に預けている。この割合を（ a ）といい、これを上下させることによって市中に出回る資金量を調整することができる。

しかし、近年では、金融政策の手段としてはあまり利用されておらず、1991年10月を最後に（ a ）は変動していない。

かつては日本銀行が金利を統制していたため、（ b ）を上下させることで一般銀行の貸出金利を調節できた。しかし、金利の自由化によって（ b ）と貸出金利が連動しなくなった。このため、1996年以降、金融政策としての（ b ）操作も行われていないのが現状である。

- ① a—公定歩合            b—預金準備率
- ② a—公定歩合            b—変動相場
- ③ a—預金準備率        b—公定歩合
- ④ a—預金準備率        b—変動相場

問6 下線部㉒に関連して、発券銀行としての日本銀行に関する記述として**適当でないもの**を、次の①～④のうちから一つ選べ。 24

- ① 1877年の西南戦争の費用を賄うために政府が大量に紙幣を発行した結果、激しいインフレが起こったため、政府から独立した紙幣を発行できる機関として1882年に設立された。
- ② 紙幣の正式名称は日本銀行券で、用紙製造から印刷までを財務省造幣局でおこない、日本銀行が製造費を支払って引き取っている。
- ③ 日本銀行の本店・支店には全国の金融機関の当座預金口座があり、各金融機関はその口座から日本銀行券を引き出し、これをもって日本銀行券が発行されたとしている。
- ④ 日本銀行券の市中流通高は一定ではなく、企業ボーナス月、年末年始の賃金手当の支払時期には市中流通高は増加する傾向をみせる。

問7 下線部㉑に関連して、主な「歳入金」としては、税金と社会保険料があげられる。これらに関して記述した次の文aとbの正誤を判定し、その組み合わせとして正しいものを、下の①～④のうちから一つ選べ。 25

- a 租税は国税と地方税があり、そのうち国税の総額は63兆5130億円(2020年度)となっており、所得税・消費税・法人税の三つの直接税で約50%をしめており、とくに直接税では消費税の占める割合が最も高い。
- b 年金の保険料は、会社員または公務員の配偶者で、収入が130万円未満の場合は納付免税となるが、厚生年金保険の保険料は2022年までに段階的に引き上げられて一律16,590円、国民年金の保険料は18.3%で固定されている。

- ① a－正 b－正                      ② a－正 b－誤  
③ a－誤 b－正                      ④ a－誤 b－誤

問8 下線部㉒に関連して、現在市中に流通している紙幣・貨幣で、その流通量が最も多いもの(枚数)の組み合わせとして正しいものを次の①～④から一つ選べ。 26

- ① 千円札・十円硬貨                  ② 千円札・一円硬貨  
③ 一万円札・十円硬貨              ④ 一万円札・一円硬貨

問9 下線部㉓について、「デフレ」についての記述として**適当でないもの**を次の①～④から一つ選べ。 27

- ① 家計は継続的な物価下落を想定し、消費を将来に先送りするため、貯蓄が積み上がってモノの消費が落ち込む。
- ② 消費が停滞すると生産も停滞し、企業は新しい設備投資を抑制するなど、経済全体にマイナスの影響を与えることになる。
- ③ 企業にとっては、物価の持続的な下落は、実質金利の低下を意味し、企業の期待成長率を実質金利が下回ってしまう。
- ④ デフレからの脱却のため、金融緩和政策が進むと円安も進行し、輸入品の価格、とくに輸入食料品の値上がりが起こる。

第4問 次の核兵器の歴史に関する年表を見て、下の問い（問1～9）に答えよ。（配点 25）

年	核兵器に関連した歴史
1945	アメリカ 広島・ <u>㉔長崎に原爆投下</u>
1949	( a ) 原爆実験に成功
1960	( b ) 原爆実験に成功
1963	<u>㉑部分的核実験禁止条約調印</u>
1964	( c ) 原爆実験に成功
1968	核兵器拡散防止条約調印
1987	<u>㉓中距離核戦力全廃条約調印</u>
1991	第1次戦略兵器削減条約調印
1992	( b )・( c ) が核兵器拡散防止条約に加盟
1993	第2次戦略兵器削減条約調印
1996	包括的核実験禁止条約が国連で採択
1998	<u>㉒インドで地下核実験</u>
2002	アメリカ・ロシアがモスクワ条約調印
2010	<u>㉕第1回核セキュリティサミット</u> が開催 アメリカ・ロシアが新戦略兵器削減条約調印
2017	<u>㉖核兵器禁止条約採択</u> <input type="text"/> がノーベル平和賞受賞
2019	中距離核戦力全廃条約が失効
2022	核戦争の防止と軍拡競争回避に関する <u>㉗5核兵器国</u> 首脳の間共同声明

問1 年表中の ( a ) ( b ) ( c ) にあてはまる国の組み合わせとして正しいものを次の①～⑥から一つ選べ。 28

- ① a－中華人民共和国    b－ソビエト連邦    c－フランス
- ② a－中華人民共和国    b－フランス    c－ソビエト連邦
- ③ a－フランス    b－ソビエト連邦    c－中華人民共和国
- ④ a－フランス    b－中華人民共和国    c－ソビエト連邦
- ⑤ a－ソビエト連邦    b－中華人民共和国    c－フランス
- ⑥ a－ソビエト連邦    b－フランス    c－中華人民共和国

問2 年表中の  にあてはまる語句を次の①～④のうちから一つ選べ。

- ① パグウォッシュ会議
- ② 国際原子力機関
- ③ 核兵器廃絶国際キャンペーン
- ④ 核戦争防止国際医師の会

問3 下線部④に関連して、長崎に原子爆弾が投下された月日と原爆を投下したアメリカの爆撃機B29の名前の組み合わせとして正しいものを次の①～④から一つ選べ。

- ① 8月6日ーエノラ=ゲイ号
- ② 8月6日ーボックスカー号
- ③ 8月9日ーエノラ=ゲイ号
- ④ 8月9日ーボックスカー号

問4 下線部①について、「部分的」と表記されるのは全面禁止にならず、事実上核実験可能な場所があったからである。その場所として正しいものを次の①～④から一つ選べ。

- ① 宇宙空間
- ② 大気圏内
- ③ 地下
- ④ 水中

問5 下線部③について、この条約を締結したアメリカ・ソビエト連邦の両首脳の組み合わせとして正しいものを次の①～④のうちから一つ選べ。

- ① アメリカーオバマ ソビエト連邦ーゴルバチョフ
- ② アメリカーオバマ ソビエト連邦ーエリツィン
- ③ アメリカーレーガン ソビエト連邦ーゴルバチョフ
- ④ アメリカーレーガン ソビエト連邦ーエリツィン

問6 下線部①に関連して、インドの核実験に対抗して同年に核実験をおこなった国として正しいものを次の①～④から一つ選べ。

- ① 朝鮮民主主義人民共和国
- ② パキスタン
- ③ 中華人民共和国
- ④ イラン

問7 下線部③について、第1回核セキュリティサミットはワシントンで開催され、ホスト国は日本、議長国はアメリカが務めた。この会議には国際原子力機関の事務局長も出席したが、この事務局長として正しい人物を次の①～④から一つ選べ。

- ① 明石康
- ② 緒方貞子
- ③ 天野之弥
- ④ 小和田恆

問8 下線部㉑について、この条約に署名していない国(2022年)として正しいものを次の①～⑥から一つ選べ。 35

- ① 日本                      ② ブラジル                      ③ ベトナム  
④ バチカン市国              ⑤ 南アフリカ共和国              ⑥ ニューージーランド

問9 下線部㉒について、この5カ国は国際連合の常任理事国である。これらに含まれない国として正しいものを次の①～⑥から一つ選べ。 36

- ① アメリカ合衆国              ② 中華人民共和国              ③ ロシア  
④ ドイツ                      ⑤ フランス                      ⑥ イギリス



(余 白)

(余 白)

